

绝密★启用前

2012 年同等学力人员申请硕士学位  
学科综合水平全国统一考试

农林经济管理试卷

第一部分 必答题

第二部分 选答题

- I. 农业经济
- II. 林业经济

考生须知

1. 本试卷满分为 100 分，其中第一部分 70 分，包括经济学（40 分）和管理学（30 分）两部分，每位考生必答。第二部分 30 分，分农业经济和林业经济两部分，考生从中任选其一作答，若两项全答，只按前选计分。
2. 请考生务必将本人考号最后两位数字填写在本页右上角方框内。
3. 必答题部分的单项选择题的答案一律用 2B 铅笔填涂在指定的答题卡上，凡做在试卷或答题纸上的答案一律无效；其它题一律用蓝色或黑色墨水笔在答题纸指定位置上按要求作答，未做在指定位置上的答案一律无效。
4. 在答题卡上正确的填涂方法为在答案所代表的字母上划线，如[A] [B] [C] [D]。
5. 监考员收卷时，考生须配合监考员验收，并请监考员在准考证上签字（作为考生交卷的凭据），否则，若发生答卷遗失，责任由考生自负。

## 第一部分 必答题

一、单项选择题（每小题 1 分，共 24 分。其中 1~20 为经济学部分，21~24 为管理学部分，答案请填涂在答题卡上）

1. 微观经济学的中心理论是（ ）。  
A. 效用理论  
B. 价格理论  
C. 厂商理论  
D. 成本理论
2. 一般而言，下列关于恩格尔系数的描述，正确的是（ ）。  
A. 美国居民的恩格尔系数大于印度居民  
B. 农村居民的恩格尔系数大于城市居民  
C. 富裕者的恩格尔系数大于贫困者  
D. 欧洲人口的总体恩格尔系数大于非洲人口
3. 下列对某商品需求价格弹性的描述，正确的是（ ）。  
A. 短期而言大于长期  
B. 长期而言大于短期  
C. 无法判断  
D. 长期短期都一样
4. 解决农产品价格市场波动的方法是（ ）。  
A. 政府出台价格支持政策  
B. 政府出台农产品限价措施  
C. 政府出台提高农民收入政策  
D. 政府出台粮食直接补贴政策
5. 实现消费者均衡的条件是（ ）。  
A.  $MU_X = MU_Y$   
B.  $P_X = P_Y$   
C.  $MU_X/P_X = MU_Y/P_Y$   
D.  $I_X/P_X = I_Y/P_Y$
6. 一项活动的机会成本是（ ）。  
A. 花费在该项活动上的全部费用  
B. 用于该项活动所消耗时间的价值  
C. 花费在该项活动上的直接费用  
D. 该项活动所占用资源用于次优用途时创造的价值
7. 一般而言，当某商品（ ）时，需求的价格弹性较大。  
A. 有大量相似的替代品  
B. 缺乏相似的替代品  
C. 是低档商品  
D. 是必需品
8. 完全竞争市场的厂商短期供给曲线是指（ ）。  
A.  $AVC > MC$  中的那部分  $AVC$  曲线  
B.  $AC > MC$  中的那部分  $AC$  曲线  
C.  $MC \geq AVC$  中的那部分  $MC$  曲线

D.  $MC \geq AC$  中的那部分 MC 曲线

9. 在竞争市场上, 如果企业面临边际成本大于边际收益的局面, 则 ( )。
- A. 企业增加产量, 利润将不变      B. 企业增加产量, 利润将增加  
C. 企业减少产量, 利润将增加      D. 企业减少产量, 利润将减少
10. 下列各项中会导致一国生产可能性曲线向外移动的是 ( )。
- A. 失业      B. 价格总水平提高  
C. 技术进步      D. 消费品生产增加, 资本品生产下降
11. 最有可能出现信息不对称问题的市场是 ( )。
- A. 香皂      B. 电器  
C. 食品      D. 二手车
12. 经济社会通过资源的重新配置使得某些人的境况得到改善而没有使任何人的境况恶化, 这种状态称之为 ( )。
- A. 帕累托最优      B. 非帕累托最优  
C. 瓦尔拉斯均衡      D. 非瓦尔拉斯均衡
13. 某年的名义国民生产总值大于上一年的名义国民生产总值, 这说明 ( )。
- A. 该年的物价水平比上一年高  
B. 该年的实际国民生产总值超过上一年  
C. 该年的物价水平和食物产量水平都比上一年有所提高  
D. 无法判断
14. 假设可支配收入增加 50 元, 消费支出增加 45 元, 则边际储蓄倾向为 ( )。
- A. 0.05      B. 0.10  
C. 0.50      D. 0.90
15. 投资的变化对国民收入的放大作用被称为 ( )。
- A. 边际投资倾向      B. 市场失灵  
C. 外部性      D. 乘数效应
16. 从一种工作过渡到另一种工作之间的失业是 ( )。
- A. 季节性失业      B. 摩擦性失业  
C. 结构性失业      D. 周期性失业
17. 当国民收入增加时, 总支出 ( )。
- A. 增加, 增加量等于国民收入的增加量  
B. 减少, 减少量等于国民收入的增加量  
C. 增加, 增加量小于国民收入的增加量  
D. 减少, 减少量小于国民收入的增加量
18. 政府支出和税收以相同数量上升时, ( )。
- A. 将增加投资, 因为政府支出增加了总需求  
B. 将减少投资, 因为增加的税收减少了总需求

- C. 将增加投资，因为增加的税收减少了可支配收入，家庭会减少储蓄
- D. 将减少投资，因为增加的税收减少了可支配收入，家庭会减少储蓄

19. IS-LM 模型研究的是 ( )。

- A. 在利息率与投资不变的情况下，总需求对均衡国内生产总值的决定
- B. 在利息率与投资变动的情况下，总需求对均衡国内生产总值的决定
- C. 总需求与总供给对国民生产总值和物价水平的影响
- D. 在总供给不变的情况下，总需求对均衡国内生产总值的决定

20. 如果预期通货膨胀率高于实际值，经济中的真实实际工资水平比预期实际工资水平 ( )；企业会比原计划雇佣 ( ) 的工人。

- A. 高 更多
- B. 高 更少
- C. 低 更多
- D. 低 更少

21. 下列范畴中不属于计划的是 ( )。

- A. 宗旨
- B. 预算
- C. 激励
- D. 程序

22. 对现有组织体制投入越大就越可能反对改变现有组织体制，反映了 ( )。

- A. 组织体制的惯性
- B. 组织体制的保守倾向
- C. 既得利益者的恐惧
- D. 变革的风险

23. 帮助员工制定个人发展计划是 ( )。

- A. 计划工作
- B. 人事工作
- C. 组织工作
- D. 领导工作

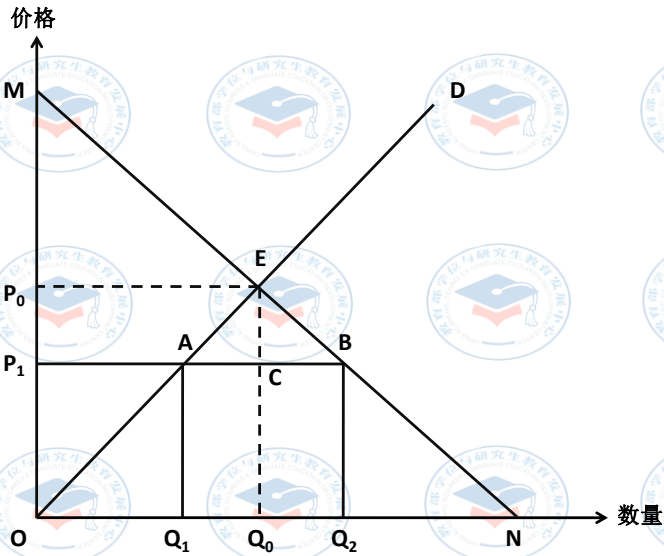

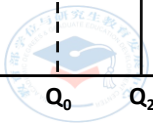

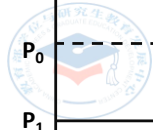

24. 在控制管理工作中，注意控制对象的限制性或最有利性因素的原理是 ( )。

- A. 计划要求原理
- B. 控制关键点原理
- C. 控制趋势原理
- D. 例外控制原理

## 二、图解题 (10 分)

假设一国在不参与国际贸易时，其国内棉花需求曲线为  $MN$ ，供给曲线为  $OD$ ，此时的均衡价格为  $P_0$ ，均衡数量为  $Q_0$ 。现在该国政府采取开放市场的政策，导致其国内棉花价格趋近于国际市场棉花价格，即  $P_1$ 。根据下图作答。

- (1) 该国开放市场后，此时的需求量为 ( )，供给量为 ( )，两者之间的缺口为 ( )。
- (2) 该国未开放市场时的生产者剩余为 ( )，消费者剩余为 ( )。
- (3) 该国开放市场后的生产者剩余为 ( )，消费者剩余为 ( )。
- (4) 根据上述生产者剩余和消费者剩余的变化情况，说明一国开放市场所带来的变化。



三、计算分析题（第1题10分，第2题6分，共16分）

1. 对美国农产品的需求大部分来自美国以外的其他国家。假设某年度美国的小麦总需求为  $Q=3244-283P$ ，其中美国国内需求是  $Q_D=1700-107P$ ，国内供给是  $Q_S=1944+207P$ 。假设美国小麦的出口需求下降了40%。

- (1) 小麦出口需求的下降，将使美国小麦市场的均衡价格发生什么变化？（取小数点后两位）
- (2) 假设美国政府想收购足够多的小麦，以使小麦价格上升到3.50。如果没有新增的出口需求，政府需要购买多少小麦？政府的购买行为需要支付多少货币量？

2. 某机械厂生产一种产品，每台售价  $P$  为200元，年固定成本  $F$  总额为300万元，单件变动成本  $V$  为150元，该厂现有生产能力为7.5万台，产销平衡；由于该产品畅销，欲扩大生产，购置一批新设备，每年需增加固定成本30万元，但变动成本可节约15%，同时，为有利于竞争，准备降低售价5%。问：

- (1) 该厂盈亏平衡产量是多少？
- (2) 目前的年利润有多少？
- (3) 扩大生产的方案是否可行？

四、简答题（每小题5分，共10分）

1. 简述企业经营战略分析的内容。
2. 简述领导的职责。

五、论述题（10分）

运用计划工作的原理结合实际说明计划对提高管理效率的作用。

## 第二部分 选答题

(农业经济和林业经济, 考生任选其一作答)

### I. 农业经济

#### 一、名词解释 (每小题 2 分, 共 6 分)

1. 关税升级
2. 价格干预
3. 非正规金融

#### 二、简答题 (每小题 6 分, 共 12 分)

1. 什么是传统农业的典型特征?
2. 农业对农村工业发展的贡献主要体现在哪些方面?

#### 三、论述题 (12 分)

结合我国现实, 试述影响农产品供给的因素有哪些?



## II. 林业经济

### 一、单项选择题（每小题 1 分，共 6 分）

1. 在投入方面，林业中所消耗的劳动总量包括（ ）。
  - A. 用价值表现的物质消耗
  - B. 土地占用与劳动占用
  - C. 固定资产与流动资金
  - D. 物化劳动与活劳动
2. 任何一项林业科技成果能否得到推广取决于其本身在（ ）。
  - A. 技术上先进实用、经济上费用低廉
  - B. 经济上费用低廉、生产上简单易行
  - C. 技术上先进实用、生产上简单易行
  - D. 技术上先进实用、经济上费用低廉、生产上简单易行
3. 一片森林的社会生态效益的大小不能由森林本身体现，必须借助于（ ）来反映。
  - A. 模拟物品
  - B. 同质同类物品
  - C. 森林产品
  - D. 等效益物品
4. 木材需求原则上是指消费者和使用者在—特定时期，在每一价格水平上（ ）购买的木材商品总量。
  - A. 愿意而且能够
  - B. 愿意但不一定
  - C. 实际
  - D. 假定
5. 森林的效益是森林功能所产生的具体效果，是森林的（ ）。
  - A. 自然属性
  - B. 经济属性
  - C. 社会属性
  - D. 生态属性
6. 我国制定并实施木材规格、木材检尺和木材材积表等三项标准，开始于（ ）年。
  - A. 1952
  - B. 1962
  - C. 1972
  - D. 1982

### 二、简答题（每小题 4 分，共 12 分）

1. 简述林产品市场的特点。
2. 在政府林业宏观调控的条件下，林业中公共物品的供给应当满足哪些基本要求？
3. 如何解决社会林业中的权属和责任？

### 三、论述题（12 分）

剖析森林资源破坏的根源并论述如何建立森林资源保障体系。