

绝密★启用前

2011 年同等学力人员申请硕士学位
学科综合水平全国统一考试

地理学试卷

考生须知

1. 本试卷满分 100 分。
2. 请考生务必将本人考号最后两位数字填写在本页右上角方框内。
3. 考生一律用蓝色或黑色墨水笔在答题纸指定位置上按规定要求作答,未做在指定位置上的答案一律无效。
4. 监考员收卷时,考生须配合监考员验收,并请监考员在准考证上签字(作为考生交卷的凭据)。否则,若发生答卷遗失,责任由考生自负。

一、选择题（每小题 2 分，共 10 分。每小题的 4 个答案中至少有一个是正确的，错选、漏选，均不得分）








1. 地球表层系统运动和发展的基本动力有（ ）。
A. 机械能
B. 地球内能
C. 太阳能
D. 人类活动
2. 极强酸性土壤的 pH 值为（ ）。
A. $\text{pH} \leq 4.5$
B. $\text{pH} \leq 6.5$
C. $\text{pH} \leq 7.0$
D. $\text{pH} \leq 10.0$
3. 地球表层系统的整体性是指（ ）。
A. 全球环境保持一致
B. 区域内自然条件的一致性
C. 陆地环境不因某自然要素的变化而变化
D. 陆地环境各要素相互联系、相互制约和相互渗透
4. 人口再生产过程的本质是（ ）。
A. 生理过程
B. 自然过程
C. 社会过程
D. 生物过程
5. 按资源环境承载力和开发强度划分的主体功能区类型是（ ）。
A. 优化开发区、重点开发区、限制开发区、禁止开发区
B. 优化开发区、重点开发区、出口加工区、综合保税区
C. 限制开发区、禁止开发区、自然保护区、风景名胜区
D. 重点开发区、限制开发区、边境合作区、经济开发区

二、填空题（每空 1 分，共 10 分）

1. 自然界中典型的旋回性节律是_____旋回和_____旋回。
2. 地球表层系统中主要的地理过程有物理过程（能量过程、水文过程等）、_____、_____以及_____。
3. 科学发展观中的“五个统筹”是_____、_____、统筹经济社会发展、_____、统筹国内发展和对外开放。
4. 国家的政治地理特征包括_____、_____与核心区、边疆与边界。

三、名词解释（每小题 2.5 分，共 20 分）

1. 地图
2. 温室效应
3. 人类生态系统



4. 自然地带性

5. 地域生产综合体

6. 生产性服务业

7. 城市规划

8. 区域综合开发

四、概述题（每小题 8 分，共 32 分）

1. 对可更新资源和不可更新资源的认识。

2. 自然灾害的主要特征。

3. 经济地域系统运动的基本规律。

4. 人地关系的基本内涵。

五、论述题（每小题 14 分，共 28 分）

1. 河流与地理环境的相互作用。

2. 工业产业集群的效应。