


绝密★启用前



2011 年同等学力人员申请硕士学位
学科综合水平全国统一考试


农林经济管理试卷

第一部分 必答题

第二部分 选答题

- I. 农业经济
- II. 林业经济

考生须知

1. 本试卷满分为 100 分，其中第一部分 70 分，包括经济学（40 分）和管理学（30 分）两部分，每位考生必答。第二部分 30 分，分农业经济和林业经济两部分，考生从中任选其一作答，若两项全答，只按前选计分。
2. 请考生务必将本人考号最后两位数字填写在本页右上角方框内。
3. 必答题部分的单项选择题的答案一律用 2B 铅笔填涂在指定的答题卡上，凡做在试卷或答题纸上的答案一律无效；其它题一律用蓝色或黑色墨水笔在答题纸指定位置上按要求作答，未做在指定位置上的答案一律无效。
4. 在答题卡上正确的填涂方法为在答案所代表的字母上划线，如[A]  [C] [D] 。
5. 监考员收卷时，考生须配合监考员验收，并请监考员在准考证上签字（作为考生交卷的凭据）。否则，若发生答卷遗失，责任由考生自负。

第一部分 必答题

一、单项选择题（每小题 1 分，共 24 分。其中 1~20 为经济学部分，21~24 为管理学部分，答案请填涂在答题卡上）

- 下列属于经济学中规范分析的命题是（ ）。
 - 1980 年代的高预算赤字导致了贸易逆差
 - 低利率会刺激投资
 - 扩张的财政政策会降低利率
 - 应该降低利率以刺激投资
- 商品 X 和商品 Y 的价格以及消费者的收入都按同一比例同方向变动，那么预算线将（ ）。
 - 向左下方平行移动
 - 向右上方平行移动
 - 不发生变化
 - 向右下方平行移动
- 下列对某商品供给价格弹性的描述，正确的是（ ）。
 - 短期而言大于长期
 - 长期而言大于短期
 - 无法判断
 - 长期短期都一样
- 茶叶价格上升的替代效应是（ ）。
 - 茶叶价格相对其他商品价格的上升对茶叶需求的影响
 - 茶叶价格上升引起茶叶供给的增加
 - 茶叶需求的价格弹性
 - 茶叶价格上升带来的消费者实际收入减少对茶叶需求的影响
- 根据无差异曲线分析，消费者均衡是（ ）。
 - 无差异曲线与消费可能性曲线的相切之点
 - 无差异曲线与消费可能性曲线的相交之点
 - 离原点最近的无差异曲线上的任何一点
 - 离原点最近的消费可能性曲线上的任何一点
- 当 MP_L 为负时，生产处于（ ）。
 - 对 L 的第 1 阶段
 - 对 L 的第 2 阶段
 - 对 L 的第 3 阶段
 - 无法判断
- 如果企业在生产过程中增加一种生产要素的使用量，这种要素的边际产量保持不变，此时的生产函数表现出（ ）。
 - 报酬不变
 - 报酬递增
 - 机会成本递减
 - 生产可能性递增
- 一个利润最大化的企业采取价格歧视政策时，将在（ ）的市场上索取最低价格。
 - 需求价格弹性最大
 - 需求价格弹性最小
 - 需求最大
 - 需求最小
- 如果一国的生产可能性曲线向外凸起，意味着（ ）。

- A. 要多生产一种商品，该国必须减少越来越多的其他商品生产
- B. 该国增加生产可以减少稀缺性的问题
- C. 该国不能同时增加所有商品的生产
- D. 要多生产一种商品，该国必须减少越来越少的其他商品生产

10. 收入分配绝对平均时，基尼系数（ ）。

- A. 大于零
- B. 大于零小于一
- C. 等于零
- D. 等于一

11. 下面存在搭便车问题的物品是（ ）。

- A. 收费的高速公路
- B. 私立学校
- C. 私人经营的电影院
- D. 路灯

12. 在下列四种情况中，不会导致国民收入增加的是（ ）。

- A. 政府购买性支出增加
- B. 政府转移支付增加
- C. 税收增加
- D. 投资增加

13. 如果边际消费倾向是 0.9，可支配收入增加 800 亿元，消费将增加（ ）。

- A. 888.9 亿元
- B. 800 亿元
- C. 720 亿元
- D. 72 亿元

14. 为降低通货膨胀，需要（ ）的财政政策，这将导致实际 GDP（ ）和价格水平（ ）。

- A. 扩张性 增加 上涨
- B. 紧缩性 增加 上涨
- C. 扩张性 减少 下降
- D. 紧缩性 减少 下降

15. 中央银行降低贴现率会导致（ ）。

- A. 货币供给量增加，利息率提高
- B. 货币供给量增加，利息率降低
- C. 货币供给量减少，利息率提高
- D. 货币供给量减少，利息率降低

16. 假定名义货币供给量不变，价格总水平上升将导致一条向右上方倾斜的 LM 曲线上的一点（ ）。

- A. 沿原 LM 曲线向上方移动
- B. 沿原 LM 曲线向下方移动
- C. 向右移动到另一条 LM 曲线上
- D. 向左移动到另一条 LM 曲线上

17. 由于经济萧条而形成的失业属于（ ）。

- A. 摩擦性失业
- B. 结构性失业
- C. 周期性失业
- D. 永久性失业

18. 用支出法计算国民生产总值时，不属于投资的是（ ）。

- A. 联想公司购买政府债券
- B. 联想公司增加一万台 PC 机存货

C. 联想公司购买两条生产流水线 D. 联想公司新建 5000 平方米厂房

19. 利率的下降, 将 ()。

- A. 降低投资项目的预期回报, 使更少的项目有利可图
- B. 降低投资项目的预期回报, 使更多的项目有利可图
- C. 增加投资项目的预期回报, 使更少的项目有利可图
- D. 增加投资项目的预期回报, 使更多的项目有利可图

20. 实际国内生产总值 (GDP) 等于 ()。

- A. 价格水平除以名义 GDP
- B. 名义 GDP 除以价格水平
- C. 名义 GDP 乘以价格水平
- D. 名义 GDP 减去价格水平

21. 在计划工作中“做正确的事”, 又要“正确地做事”反映了 () 原则。

- A. 效率性
- B. 创新性
- C. 灵活性
- D. 目标性

22. 管理者在承担的人际关系任务中要扮演的角色之一是 ()。

- A. 企业家
- B. 谈判者
- C. 组织首脑
- D. 信息发布者

23. 在整个企业管理中倡导尊重员工, 以此形成员工工作动力的观念是 ()。

- A. 权威观念
- B. 企业文化观念
- C. 经济激励观念
- D. 资源有效配置观念

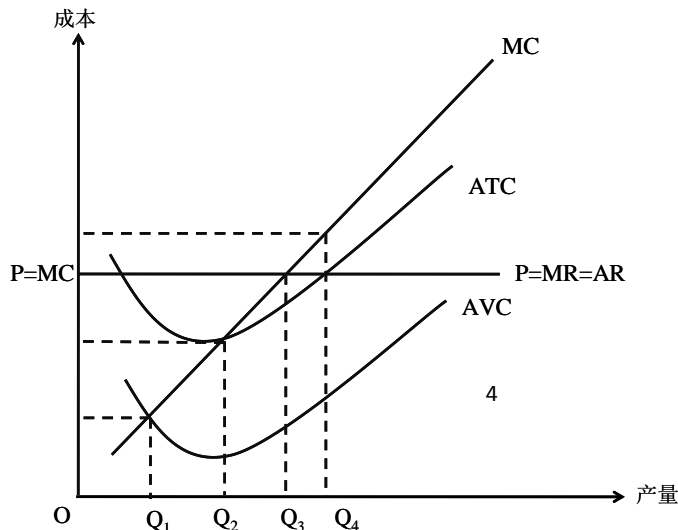
24. 反映组织在一定时间内固定资金运用情况的是 ()。

- A. 现金预算
- B. 投资预算
- C. 营业预算
- D. 总体预算

二、图解题 (10 分)

下图是典型竞争性企业的成本曲线。请根据图形回答以下问题:

- (1) 能使利润最大化的产量是 () ; 能使厂商处于不盈不亏状态的产量是 () 。
- (2) 该厂商处于 () 市场中; 解释你做出此判断的依据。
- (3) 厂商生产中的“长期”与“短期”的区别是什么?
- (4) 从长期来看, 该企业如何实现均衡?



三、计算分析题（第1题10分，第2题6分，共16分）

1. 在三部门经济中，已知消费函数为 $C=100+0.9Y_d$ ， Y_d 为可支配收入；投资 $I=300$ ，政府支出 $G=160$ ，税收 $T=0.2Y$ 。

- (1) 计算边际储蓄倾向，并说明其含义。
- (2) 计算均衡的国民收入水平。
- (3) 计算政府支出乘数（取两位小数），并解释其含义。
- (4) 若政府购买增加到 300，计算新的均衡国民收入。

2. 某企业打算生产某产品。据市场预测，产品销路有三种情况：销路好、销路一般和销路差。生产该产品有三种方案：a. 改进生产线；b. 新建生产线；c. 与其他企业协作。据估计，各方案在不同情况下的收益见表 1。

表1 各方案在不同情况下的收益 单位：万元

自然状态 收益 方案	销路好	销路一般	销路差
	a. 改进生产线	180	120
b. 新建生产线	240	100	-80
c. 与企业协作	100	70	16

要求：运用不确定型决策方法中的（1）小中取大法、（2）大中取大法、（3）最小最大后悔值法，分别判断企业应该选择哪个方案？

四、简答题（每小题5分，共10分）

1. 简述环境对管理的影响。
2. 简述菲德勒的权变领导理论提出的影响管理环境情况的三个内容。

五、论述题（10分）

运用组织理论，联系实际论述如何保证组织设计的科学性和效率性。

第二部分 选答题

(农业经济和林业经济, 考生任选其一作答)

I. 农业经济

一、名词解释 (每小题 2 分, 共 6 分)

1. 农业剩余劳动力
2. 现代农业
3. 功能性收入分配

二、简答题 (每小题 6 分, 共 12 分)

1. 简述中国农村金融组织机构功能不健全的表现。
2. 评价一个国家的食物 (粮食) 安全状况主要涉及哪些方面?

三、论述题 (12 分)

为什么在经济发展过程中会出现国民经济结构的调整?

II. 林业经济

一、单项选择题（每小题 1 分，共 6 分）

1. 林业经济效益衡量指标反映林业（ ）的比较关系。
 - A. 生产与消耗
 - B. 供给与需求
 - C. 投入与产出
 - D. 积累与消费
2. 由于林地质量的差异造成了等量林木在营林生产成本上的（ ）。
 - A. 相同
 - B. 不同
 - C. 加倍
 - D. 减少
3. 林业生产过程中自然力可以独立发挥作用,这就决定了林业劳动力使用上具有()。
 - A. 连续性
 - B. 阶段性
 - C. 季节性
 - D. 间歇性
4. 林产品流通包括林产品在市场转移中的（ ）。
 - A. 买者、卖者、消费者
 - B. 生产者、中间商、使用者
 - C. 商流、物流、信息流
 - D. 交易者、交易方式、交易合约
5. 木材供给原则上是指生产者在一特定时期内,在每一价格水平上（ ）供给给市场的木材商品总量。
 - A. 愿意而且能够
 - B. 愿意但不一定能够
 - C. 实际
 - D. 假定
6. 林业基本建设投资一般包括：（ ）。
 - A. 建筑安装、设备购置、其他基本建设
 - B. 造林营林、森工生产、木材加工
 - C. 经济项目、技术项目、生态项目
 - D. 林区基本建设、林业生产建设、林业科技建设

二、简答题（每小题 4 分，共 12 分）

1. 林业管理部门作为政府实施干预林业的代理机构,其主要职责是什么?
2. 建立林业科技推广体系应当符合哪些要求?
3. 简述森林资源管理弹性及其危害性。

三、论述题（12 分）

试分析影响林业经济效益的因素及提高林业经济效益的途径。